

# Московская олимпиада школьников по истории, 2020-2021 учебный год. 8 класс

4 дек 2020 г., 00:00 – 30 дек 2020 г., 23:59

№ 1

2 балла

На территории современной России располагались многие древние государства. Выберите из представленного списка то, границы которого полностью или частично не располагались на современной российской территории.

Хазарский каганат

империя Чингисхана

империя Александра Македонского

Цинский Китай

## № 2

---

8 баллов

Один из древнерусских князей побывал в городах, расположенных за пределами Древнерусского государства.

Назовите имя этого князя и названия этих городов

Назовите имя этого князя.

Ответ

Этой столицы больше нет – точное место существования города неизвестно, вероятно, сейчас он может находиться на дне Каспийского моря или даже на дне одного из крупных водохранилищ, построенных в XX в.

Ответ

Некоторые источники сообщают, что князь побывал и в столице крупного государства, существовавшего до XV века; этот город был разорён в ходе Батыева нашествия, а ныне восстановлен как историко-архитектурный ансамбль.

Ответ

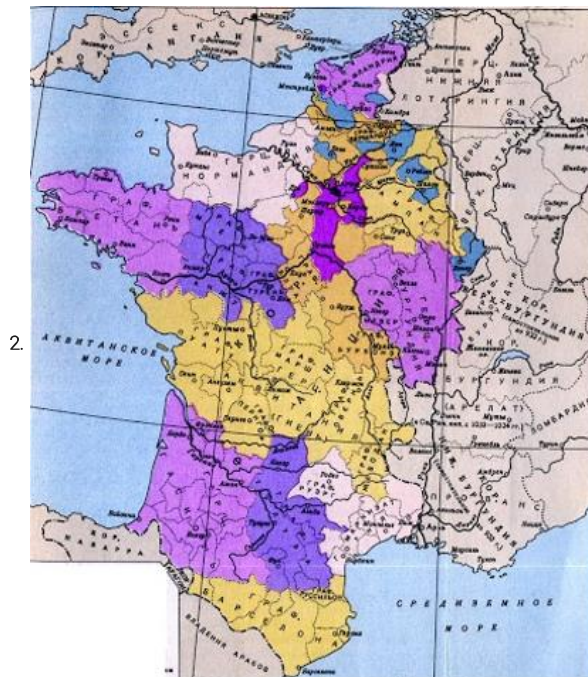
В этот город князь хотел перенести столицу Древней Руси, считая, что в этот город стекаются все богатства с крупных торговых путей. Сегодня этот город находится в составе одного из государств на Балканах.

Ответ

2 балла

Перед вами – схемы, изображающие Францию в средние века. Расположите эти схемы в верной хронологической последовательности (от наиболее хронологически ранней ситуации, отображённой на схеме до наиболее поздней).

Ответ представьте в виде последовательности цифр (например: 1234).



3.



4.



Число или дробь

№ 4

4 балла

Укажите название титула исторического персонажа, изображённого на представленной почтовой марке.



Ответ

Укажите имя и отчество царя России, в правление которого произошло событие, указанное на приведенной марке.

Ответ

№ 5

2 балла

Перед вами – фрагмент из средневекового статута парижских булочников. Прочтите текст и обратите внимание на выделенные жирным шрифтом фрагменты. Выберите верное утверждение, подходящее для всех выделенных фрагментов из предложенного списка.

«Никто не может быть в пределах Парижского округа булочником, если не купит у короля право заниматься ремеслом; если (только) он не живет **у св. Марселя, у св. Германа в лугах**, вне стен Парижа, или на **старой земле госпожи св. Женьевы**, или **на земле капитула Парижской богоматери**, расположенной в Гарланд, за исключением **земли св. Маглуара** внутри и вне парижских стен и **земли св. Мартина в полях**, лежащей вне парижских стен. И продают вышеупомянутое ремесло от имени короля те, которые купили его у короля, одному дороже, другому дешевле, как им заблагорассудится».

- Указанные названия – это фразеологизмы, подразумевающие особое положение (особый статус) некоторых парижских ремесленников.
- Указанные названия – это парижские топонимы, подразумеваются особые части города, расположенные непосредственно вокруг отдельных церквей.
- Указанные названия – это указания на феодальное (церковное) землевладение, т.е. на земли, принадлежавшие церкви и отдельным орденам, со своей административной властью.
- Указанные названия – это названия парижских монастырей, а монахи были освобождены от необходимости согласования своего ремесла с королём.

№ 6

2 балла


Перед вами – устойчивые выражения, связанные с русскими городами и их жителями. Выберите из представленного списка то, которое НЕ СВЯЗАНО с городом, расположенным на территории современной России.

- Добрый самаритянин
- Сирота казанская
- Орёл да Кромы – первые воры
- Пермь – солёные уши



2 балла

Перед вами – иллюстрации, посвящённые известной русской правительнице. Назовите ее имя.



Ответ



2 балла

Рассмотрите представленную схему и выберите верные утверждения. Примите во внимание, что круглые точки обозначают крепости (фортификационные сооружения), чем больше точка – тем больше крепость по площади.



- На представленной схеме представлено обособленное Московское княжество.
- На представленной схеме отображен город, в котором погиб дед Владимира Святого.
- Представленная схема показывает в том числе последствия Батыева нашествия.
- На представленной схеме показана территория расселения половцев.
- На представленной схеме указаны названия всех городов, в которых правил Рюрик и его братья
- На представленной схеме указано море, которое называли Варяжским.
- Судя по представленной схеме, самая большая крепость была построена в Киеве.



На представленной схеме указан город, князь которого был ослеплен вскоре после Любечского съезда.

№ 9

6 баллов

Перед вами – фрагмент из произведения Бертольда Брехта «Мамаша Кураж и её дети», посвященного событиям XVII в. в Европе. Прочтите фрагмент и выполните предложенные задания.

**«Полковой священник.** Наш король заботился только о свободе. Император всех угнетал – и поляков и немцев. И король обязан был их освободить.

**Повар.** <...> что касается короля, то свобода, которую он хотел ввести в Германии, влетела ему в копеечку. В Швеции он ввел налог на соль, а это, как я сказал, беднякам влетело в копеечку. Потом у него было еще много хлопот с немцами. Нужно было сажать их за решетку и четвертовать, потому что они привыкли быть рабами у императора. Еще бы, с теми, кто не хотел быть свободным, король намаялся. Сначала он хотел защитить от злодеев, особенно от императора, только Польшу, но во время еды аппетит разгорелся, и он защитил всю Германию. А она давай сопротивляться. Так что добрый король получил одни неприятности в награду за доброту и расходы, а расходы ему, конечно, пришлось окрывать налогами, это вызвало недовольство, но он на это плевал. На его стороне было как-никак слово божие. А то бы еще пошли толки, будто он делает все это из корысти. Так что совесть у него всегда была чиста, а для него это главное»

Эту войну часто называют войной религиозной или даже «священной». Действительно, одним из камней противоречия стал конфессиональный вопрос в Европе. Принимая это во внимание – укажите конфессию, о которой говорится в тексте как о «введении свободы». Ответ дайте одним словом.

Ответ

В представленном тексте упоминается несколько государств – однако, справедливости ради, в качестве самостоятельного государства существовало только одно из них. Другое являлось составной частью федерации, а третье существовало в виде многочисленных и разрозненных земель, формально объединенных надгосударственным союзом. Укажите название самостоятельного государства, федерации и надгосударственного союза.

Ответ

Ответ

Ответ

В представленном тексте говорится о том, что ход военных действий потребовал некоторых чрезвычайных экономических мер. Вспомните, когда подобные чрезвычайные меры принимались в России – и укажите год окончания указанной войны, когда в России возникло недовольство такими чрезвычайными мерами, переросшее в бунт.

Ответ

**№ 10**

---

2 балла

Прочтите представленный фрагмент из героической поэмы и назовите год, когда произошли описанные в тексте события. Народ взволнован!.. Тогда при буйстве яром, От искры наглый бунт великим стал пожаром, По стогнам разлился, на торжищах горит, И заревы Москва плачевных следствий зрит. Противу тех вельмож мятежники восстали, Которы строгости Царевы подгнетали, Которы душу в Нем старались возмущать, Дабы при буре сей Россию расхищать. Два Князя Глинские смятенья жертвой были, Единогo из них мятежники убили, Другой пронырствами от них спастись умел, И новой бурею от трона восшумел. И се простерся мрак густой над Царским домом, И раздраженна власть вооружилась громом; Разила тех мужей, разила те места, Где правда отверзать осмелилась уста.


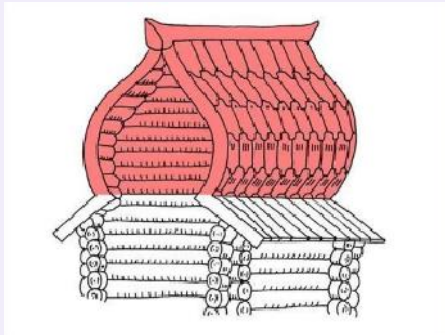
Число

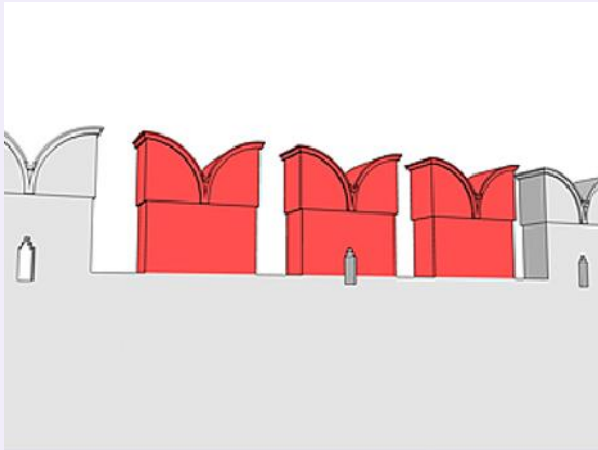

2 балла

Перед вами – известный архитектурный памятник в Крыму. Название этого памятника подскажет вам аллегорическое название архитектурного элемента.



Выберите из подборки фотографий архитектурный элемент о котором идёт речь.

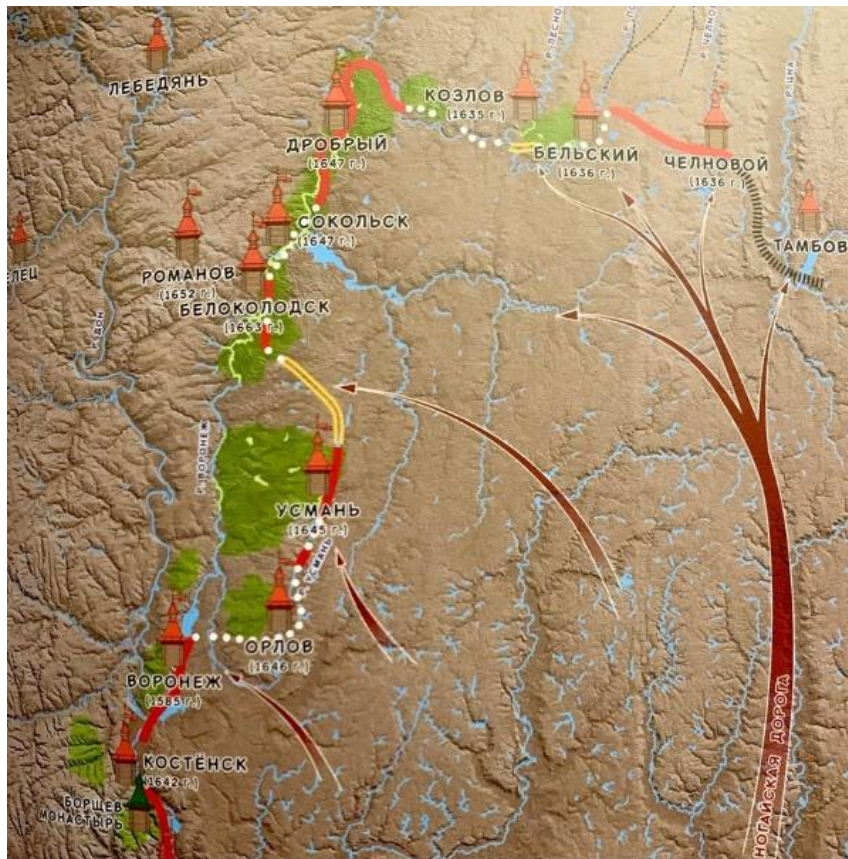






2 балла

Укажите тип фортификационной системы, элементы которой представлены на схеме.

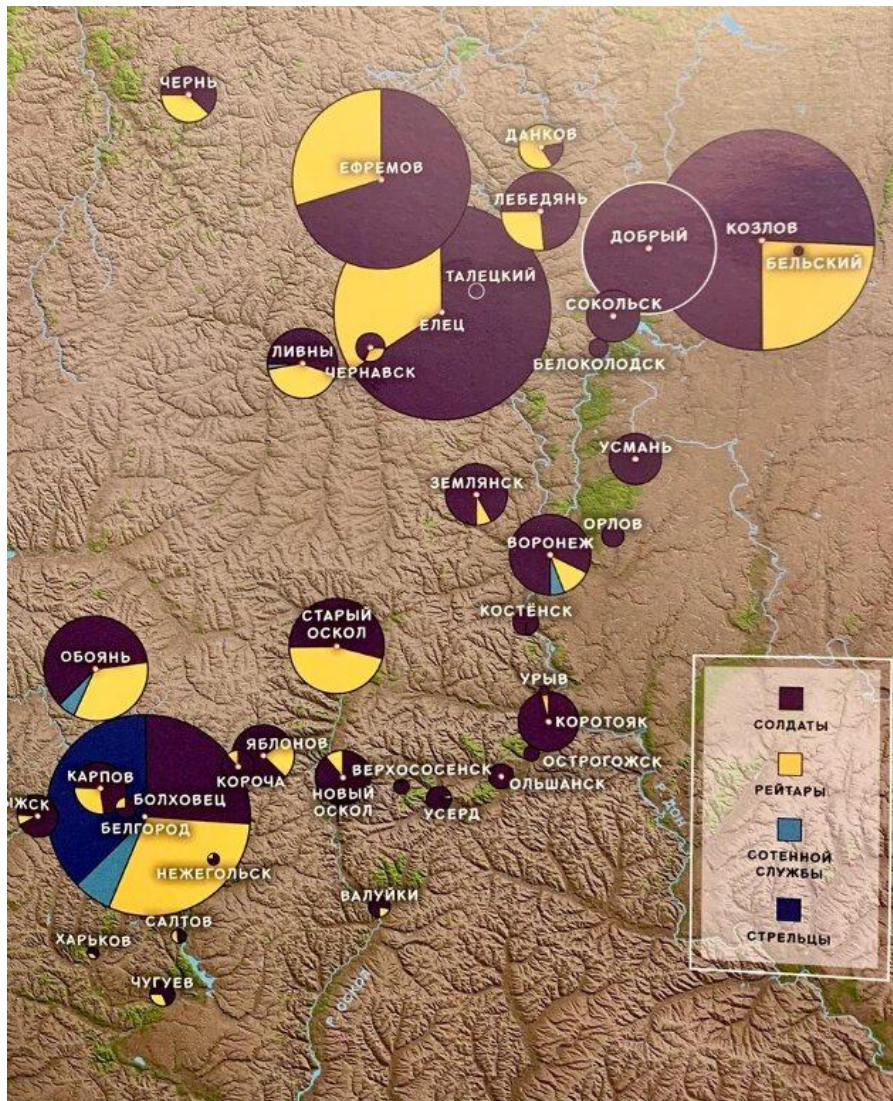


Ответ



4 балла

Рассмотрите инфографику и выполните предложенные задания:



Заполните пропуск в предложении: «на схеме отображена инфографика по категориям \_ (какого?) населения». Ответ дайте одним словом (пропущенным).

Ответ

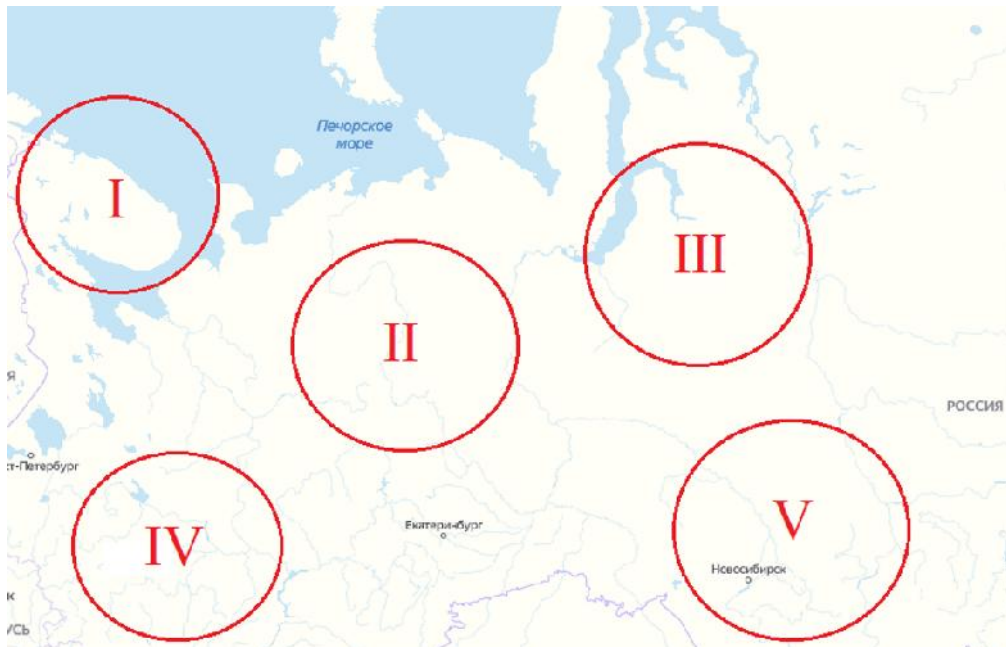
Заполните пропуск в предложении: «отображенная на схеме историческая ситуация характерна для \_\_\_\_ века». Ответ дайте АРАБСКИМИ цифрами.

Число

4 балла

Прочтите фрагмент из исторического источника и выполните предложенные задания. «И в мужиках во всех торговых и в промышленных людях великая шатость, хотят государю изменить, и над острогом и над ними, над служивыми людьми с самоедью и с остяки вместе промышлять, многие де лутчие мужики, напився, про то проговариваютца, и на государя ни в чем надежи не полагают, а по тех де мужиках, по Грише Одинце и по Шестачке и по Кирше все до одново торговые и промышленные люди поручитца не хотели... побить каменьем да... по них не ручались, а Курдюк де Давыдов корыстуетца, емлет посулы, а ему де, Давыду, в государевом деле не помогает, а государевым ясаком де и десятинною пошлиною, и над самоедью с служивыми и с промышленными людьми де промышляет он Давыд один, да и маия в 10 день был у Курдюка пир, и на пиру говорил им, Давыду и Курдюку лутчей мужик пустоозерец Михалко Дурусов, дайте де воеводы сроку, здоров бы де был много мир, да и на тово ж де мужика сказывал ему наперед тово дважды Курдюк Давыдов, и он де Давыд тово мужика Михалка про то роспрашивал, и Михалка де сказал, что говорил он... хмелем и он де Давыд тово мужика велел дати на крепкую поруку з записью. И они де, князь Роман Троекуров с товарищи, колмогорца Гришу Нефедьева да двинянина Шестачка Максимова розпрашивали, в какой мере такое слово говорили, как Мангазея за государем не была, и соболи были за ними, за торговыми и за промышленными людми, и Гриша де и Шестачко сказали, то они говорили в розговоре, что государю в Мангазее збираетца казна великая, а наперед де сего, как Мангазея была не за государем, и тем владел неведомо хто, шло то все к торговым и к промышленным людям ... во ходил ли он ... Манзя про него спрашивал ли, и Кирша де сказал, что он де к самоеди в чюмы ночью не хаживал, то на него Ивашка Зубчанин затеял, бранясь с ним, а того он не ведает, самоедин Манзя про него спрашивал или нет. И воеводе Ивану Юрьевичу да голове Степану Федоровичу приехав в Мангазею, обыскати по сему государеву наказу про все статьи подлинно, служивыми и торговыми тутошними жилецкими и приезжими людми всякими накрепко, по государеву цареву и великого князя Василья Ивановича всея Руси крестному целованью, про Курдюка Давыдова, у ково имянем Курдюк, у служивых или у торговых людей посулы и поминки имал, и про торговых людей и про самоедь, про измену и про умышление и про соболиный збор, как была Мангазея не за государем, кто с Мангазейские самоеди соболи збирал на себя, а не на государя, и х какой мере те мужики такие слова говорили...»

Выберите регион, где происходят события, описанные в тексте исторического источника.

 I. II. III.

IV.

V.

Выберите несколько верных утверждений относительно представленного источника.

В тексте говорится о том, что против государя составлен заговор.

В тексте приводятся цитаты «мужиков» о том, что до пришествия государственной власти в Мангазею было лучше («мужикам»).

Курдюк Давыдов обвиняется в экономических преступлениях.

В тексте описывается преступная схема по самовольному сбору налоговых сборов с коренного населения.

Согласно представленному тексту, вина Кирши безусловно доказана.

Гришу и Шестачка скорее можно охарактеризовать как врагов (противников) Курдюка.

8 баллов

Прочитайте приведенные фрагменты и выполните задания:

Документ №1.

Царю государю и великому князю Михаилу Федоровичу вся Руси бьет челом холоп твой Куземка Андреев сын Трусов. В прошлом государь во 7150-м году сказана государь мне, холопу твоему, Куземке твоя государева служба на Путивльское межеванье с окольничим с князь Федором Федоровичем Волконским, и я, холоп твой, бил челом тебе государю на него, окольничего князь Федора в отчестве по многим случаем о сыску и о счете, что мне, холопу твоему, с ним, с окольничим с князем Федором Федоровичем быть невместно. Лета 7035-го году блаженной памяти от великого князя Василья Ивановича вся Руси посланы послы Жигмонту королю польскому Иван Васильевич Ляцкой да Елизарий Цыплятев, да в том же государь году от великого князя Василья Ивановича вся Руси посланы послы в Рим, к папе Клименту — прадед мой, Еремей Трусов, да Шарап Лодыгин. И Шарап Лодыгин в том посольстве с прадедом моим был бессловно, и тот, государь, посольский отпуск в Посольском приказе и в твоей государеве разрядной книге записан, да 7042-го году прадед же мой Еремей Трусов послан был в послах в Свию, к Августу королю, а велено государь прадеду моему свийского Августа короля в мирном договоре привести ко кресту, и тот государь посольской отпуск в Посольском приказе записан же; да в прошлом государь во 7126-м году по твоему государеву указу был в Великом Новгороде воевода князь Иван Андреевич Хованский да Мирон Вельяминов, и ты, государь, указал быть в Великом Новгороде в судьях дяде моему, Василью Иванову сыну Трусову, и твой государев наказ дяде моему дан.

Документ №2.

Кузьма Трусов! Бил ты челом государю царю и великому князю Михаилу Федоровичу вся Руси, и подал челобитную на окольничего на князя Федора Федоровича Волконского в отечестве. И государь царь и великий князь Михайло Федорович вся Руси той твоей челобитные слушал и государь указал тебе сказать, что ты на окольничего на князя Федора Федоровича Волконского ему, государю, бьешь челом не делом, то ваше дело вершено наперед сего, и того вершеного дела николи не переделают. А вершено то дело по его государеву указу, и вперед тому делу быть потому, как вершено. А то велел государь тебе сказать именно, чтоб ты вперед о том о вершеном деле ему, государю, не бил челом. А только ты о том вершеном деле на окольничего на князя Федора Волконского учнешь вперед ему, государю, бить челом, и тебя велит государь бить кнутом и сослать в Сибирь. И ты, Кузьма, тот государев указ ведай, хотя малым челобитьем о том о вершеном деле заикнешься государю бить челом, и тебе пощады никакие не будет. 151-го го июня в 21 де государь царь и великий князь Михайло Федорович вся Руси, сию челобитную слушав, указал на выписке, какова выписка под сею челобитною.

Заполните пропуск в предложении: «Система назначения служилых людей на государственные должности, о которой идет речь в представленных источниках, называется \_\_\_»

Ответ

Укажите год, в котором был написан документ №1 по летоисчислению от Рождества Христова.

Число

Назовите думный чин, упоминаемый в документах.

Ответ

Выберите верные утверждения, связанные с представленными документами.

Документ №1 является челобитной.

Мирный договор, упоминаемый в документе №1 – это Столбовский договор.

Прадед автора документа был послан к королю Августу с целью обратить его в православие.

Автор документа №1 относится к категории зависимого населения на Руси.

Автор документа №2 считает вопрос, с которым обращается автора документа №1, окончательно решенным.

В документе №2 приводится подробная аргументация принятого решения.

Автор документа №2 разрешает спор в пользу автора документа №1.

Авторство документа №2 принадлежит лично правителю государства.

В документах «противником» К. Трусова в споре выступает представитель родовой аристократии.

В период, когда были созданы представленные документы, основным материалом для письма являлись берестяные грамоты.



14 баллов

В первом источнике упоминается ряд европейских правителей и государств.  
Рассмотрите представленное изображение и выполните задания.



Цифры могут быть лишними, а также могут повторяться.

1. Укажите цифру, которой обозначено государство, куда предок К. Трусова ездил к королю Августу.

Число

2. Укажите цифру, которой обозначено государство, правитель которого, обращаясь в своем письме к русскому князю, современником которого был Еремей Трусов, называл его «императором».

Число

3. Укажите цифру, обозначающую государство, куда было отправлено посольство Ивана Васильевича Ляцкого и Елизария Цыплятева.

Число

4. Укажите цифру, обозначающую государство, значительная часть территории которого будет присоединена к России в правление сына указанного в документе №2 монарха.

Число

5. Укажите цифру, обозначающую государство с самыми обширными заморскими колониями на момент создания приведенных источников.



Число

6. Укажите цифру, обозначающую территорию, куда был отправлен в посольство Шарап Ладыгин.

Число

7. Укажите цифру, обозначающую государство, в котором в том же десятилетии, когда были написаны приведенные источники, в ходе революционных событий был казнен правитель.

Число